


# Oddział Międzyuczelniany PTTK w Warszawie

Egzamin na Organizatora Turystyki OM PTTK – 12.05.2009 r.



Egzamin składa się z „wejściówki” (5 pytań) oraz 32 pytań pogrupowanych w 10 działów (łącznie 37 pytań). Punktacja dla poszczególnych pytań została przedstawiona obok.

Zaliczenie egzaminu polega na uzyskaniu:

- z „wejściówki” co najmniej 81 punktów – w przypadku uzyskania mniejszej liczby punktów praca nie będzie dalej sprawdzana,
- z działów, po co najmniej po 61 punktów.

Warunkiem dopuszczenia do ustnego egzaminu poprawkowego jest zdobycie po 61 punktów z przynajmniej 7 działów.

*Życzymy powodzenia*

*Komisja Egzaminacyjna*

wejściówka		
1		36
2		16
3		15
4		18
5		15
razem		100

architektura		
6		30
7		50
8		20
razem		100

budownictwo drewniane		
9		40
10		40
11		20
razem		100

etnografia		
12		43
13		25
14		32
razem		100

PTTK jako organizacja		
15		20
16		20
17		36

18		24
razem		100

historia turystyki		
19		36
20		24
21		40
razem		100

pierwsza pomoc		
22		30
23		20
24		32
25		18
Razem		100

geografia turystyczna polski		
26		30
27		30
28		40
razem		100

Ochrona przyrody		
29		46
30		12
31		42
razem		100

Zagadnienia prawne w turystyce		
32		55
33		20
34		25
razem		100

Terenoznawstwo		
35		42
36		22
37		36
razem		100

## Wejściówka

### Pytanie 1 [36 pkt.] test wielokrotnego wyboru

Zaznacz prawidłowe odpowiedzi:

- 1) Organizatorem Turystyki OM PTTK w Warszawie może zostać kandydat, który:
  - a) jest członkiem OM PTTK w Warszawie,
  - b) ma ukończone 18 lat,
  - c) jest członkiem PTTK min. 2 lata.
- 2) Przedłużenie ważności legitymacji Organizatora Turystyki OM PTTK:
  - a) jest dokonywane przez Zarząd OM,
  - b) odbywa się wyłącznie od stycznia do marca,
  - c) następuje wraz z przedłużeniem umowy o wolonariacie z OM PTTK.
- 3) Organizator Turystyki OM PTTK w Warszawie ma prawo do:
  - a) organizowania wycieczek i imprez turystycznych w ramach działalności statutowej OM PTTK w Warszawie,
  - b) zwolnienia z konieczności corocznego opłacania składki członkowskiej PTTK,
  - c) noszenia odznaki i posługiwania się legitymacją Organizatora Turystyki PTTK.
- 4) Organizator Turystyki OM PTTK ma obowiązek wspierania realizacji celów statutowych OM PTTK w Warszawie przez swoją działalność organizacyjno-popularyzatorską, a w szczególności poprzez:
  - a) zdobywanie oraz propagowanie zdobywania odznak turystyki kwalifikowanej i krajoznawczych,
  - b) podnoszenie swoich kwalifikacji turystycznych,
  - c) składanie rocznego sprawozdania do Zarządu OM ze swojej działalności,

### Pytanie 2 [16 pkt.]

Podaj pełną nazwę (wraz z numerem) swojego Koła oraz nazwę Oddziału.

Pełna nazwa i numer Koła	Pełna nazwa Oddziału

### Pytanie 3 [15 pkt.]

Podaj pełne nazwy trzech odznak, które można weryfikować w Terenowym Referacie Weryfikacyjnym działającym przy Oddziale Międzyuczelnianym PTTK w Warszawie.


### Pytanie 4 [18 pkt.]

Określ kolejność, w jakiej powstawały następujące organizacje (przypisując numery od 1-4, gdzie 1 oznacza organizację, która powstała najwcześniej).

GTT	PTTK	PTK	PTT

### Pytanie 5 [15 pkt.]

Wyjaśnij następujące skróty:

	<b>GOPR</b>		
<b>AKT</b>		<b>TT</b>	

## Architektura

### Pytanie 6 [30 pkt.]



Opisz w 50 słowach budynek przedstawiony na zdjęciu.

**Pytanie 7 [50 pkt.]**

Określ style zabytkowych budowli z terenu Polski widocznych na zdjęciach i orientacyjne ramy czasowe, w jakich te budowle mogły powstać, opisz charakterystyczne cechy budowli wznoszonych na terenie Polski w tych stylach i podaj po jednym innym przykładzie obiektów reprezentujących te style



Styl <i>[2 pkt]</i>		Styl <i>[2 pkt]</i>	
Przybliżony czas powstania <i>[3 pkt]</i>		Przybliżony czas powstania <i>[3 pkt]</i>	
Cechy charakterystyczne stylu <i>[15 pkt]</i>		Cechy charakterystyczne stylu <i>[15 pkt]</i>	
Przykład <i>[5 pkt]</i>		Przykład <i>[5 pkt]</i>	

**Pytanie 8 [20 pkt.] test jednokrotnego wyboru**



1. Budowla widoczna na fotografii stanowi element:
  - a. średniowiecznych fortyfikacji
  - b. Staropolskiego Okręgu Przemysłowego
  - c. twierdzy bastionowej
2. Widoczny w górnej części obwodu muru ganek z otworami w podłodze to:
  - a. sygnaturka
  - b. tympanon
  - c. machikuły

**Budownictwo drewniane**

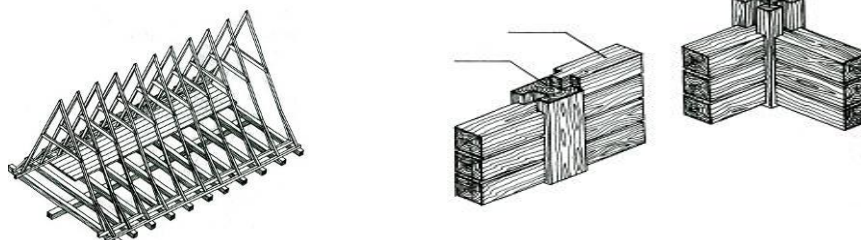
**Pytanie 9 [40 pkt.]**

- a) Wymień 2 miejscowości położone na terytorium Polski, w których znajdują się obiekty drewniane znajdujące się na Liście Światowego Dziedzictwa UNESCO. Podaj co to za obiekty. [10 pkt.]

--	--

- b) Dopasuj rodzaje konstrukcji ścian/dachów do rysunków: [10 pkt.]

konstrukcja krokwiowa, konstrukcja sumikowo-łątkowa, konstrukcja ślegowa, konstrukcja sochowo-ślemieniowa, konstrukcja zrębowa



--	--

- c) Wymień pięć świeckich obiektów drewnianych: [20 pkt.]

--	--	--	--	--

**Pytanie 10 [40 pkt.]**



*oborniki.starostwo.gov.pl*

Opisz w 50 słowach obiekt przedstawiony na rysunku uwzględniając jego podział przestrzenny, konstrukcję, a także materiał pokrycia elewacji oraz dachu.



**Pytanie 11 [20 pkt.] test wielokrotnego wyboru**

1. Najstarszy budynek drewniany na terytorium Polski znajduje się w:

- a. Kłodzku
- b. Karpaczu
- c. Krakowie

2. Pokazany na zdjęciu budynek z podcieniem jest przykryty dachem:

- a. jednospadowym
- b. dwuspadowym
- c. czterospadowym



3. Pokazane na rysunku zwieńczenie cerkwi nosi nazwę:

- a. bani
- b. babińca
- c. izbicy



4. Prezbiterium cerkwi jest przykryte dachem:

- a. łamanym brogowym
- b. łamanym mansardowym
- c. łamanym polskim

5. Pozioma linia wyznaczona przez miejsce styku połaci dachowych to:

- a. wiatrownica
- b. koźlina
- c. kalenica

6. Rozpowszechnione w XIX w. poszycie dachowe w postaci wiązanych do konstrukcji dachu witek słomy nosiło nazwę:

- a. szkudłów
- b. strzechy
- c. draniczy



7. Pokazana na zdjęciu chałupa jest:

- a. szerokofrontowa
- b. wąskofrontowa
- c. kurna

8. Najniższa belka ściany chałupy (stykająca się z podłożem lub podmurówką) to:

- a. rygiel
- b. podwalina
- c. zrąb

9. Podcień otaczający pokazany na rysunku kościół to:

- a. sosręb
- b. izbica
- c. soboty

10. Na dachu chałupy drewnianej można zobaczyć:

- a. siestran
- b. pazdur
- c. śparogi



## Etnografia

### Pytanie 12 [43 pkt.]

Wymień

1. Ustawowe mniejszości narodowe w Polsce [27 pkt.]

2. Ustawowe mniejszości etniczne w Polsce [16 pkt.]

### Pytanie 13 [25 pkt.] test jednokrotnego wyboru

Zaznacz prawidłową odpowiedź:

1. Pieta to:

- a) placek z pieca,
- b) inaczej półka nad kuchnią,
- c) dawniej stodoła,
- d) scena przedstawiająca Matkę Boską trzymającą martwego Jezusa na kolanach.

2. Ikona jest charakterystyczna dla:

- a) kultury anglosaskiej,
- b) judaizmu,
- c) prawosławia i grekokatolicyzmu,
- d) okresu posoborowego.

3. Macewa:

- a) służyła do wyrabiania ciasta,
- b) dawniej ozdobna misa z wodą święconą,
- c) to żydowska płyta nagrobna,
- d) to muzułmańska płyta nagrobna.

4. Cmentarz żydowski inaczej to:

- a) kadosh,
- b) aniel,
- c) kirkut,
- d) asbeel.

5. Religia Karaimów wyłoniła się z:

- a) judaizmu,
- b) prawosławia,
- c) islamu,
- d) protestantyzmu.



**Pytanie 14 [32 pkt.] test jednokrotnego wyboru**

Zaznacz prawidłową odpowiedź:

1. Jedyne dwie wsie tatarskie w Polsce leżą w województwie:
  - a) podkarpackim,
  - b) podlaskim,
  - c) pomorskim,
  - d) lubuskim.
2. Litwini zamieszkują:
  - a) Puszcę Notecką,
  - b) północno-wschodnie pogranicze Polski,
  - c) południowe pogranicze Polski,
  - d) Kotlinę Kłodzką.
3. Miejsce kultu muzułmańskiego to:
  - a) cerkiew,
  - b) meczet,
  - c) synagoga,
  - d) kościół.
4. Przed II Wojną Światową Łemkowie zamieszkiwali teren:
  - a) Mazowsza,
  - b) Sudetów,
  - c) Beskidu Niskiego,
  - d) Gór Świętokrzyskich.
5. Hafty to:
  - a) zdobienia na sosrębie,
  - b) ozdobne zwieńczenie kalenicy,
  - c) wyszywane zdobienia tkanin,
  - d) kubły rozstawiane w izbie podczas zabaw.
6. Urządzenie do tworzenia tkanin:
  - a) sanok,
  - b) krosno,
  - c) podkówka,
  - d) łyżnik.
7. Noc Świętojańska związana jest:
  - a) z letnim przesileniem słońca,
  - b) pierwszym dniem jesieni,
  - c) rokiem przestępnym
  - d) z żadnym z powyższych.
8. Bundz (lub też bunc) to
  - a) urządzenie służące do ubijania śmietany,
  - b) pomieszczenie do przechowywania sprzętów gospodarczych,
  - c) rodzaj sera z mleka owczego,
  - d) czapka noszona przez górali karpaccich.

**PTTK jako organizacja****Pytanie 15 [20 pkt.]**

Wyjaśnij następujące skróty:

CFK	
IKR	
IOP	
KTM ZG PTTK	
PTP	

**Pytanie 16 [20 pkt.] test wielokrotnego wyboru**

Zaznacz prawidłową odpowiedź:

- Organem odwoławczym od orzeczenia Sądu Koleżeńskiego oddziału PTTK jest:
  - Zarząd Główny PTTK
  - Główna Komisja Rewizyjna
  - Główny Sąd Koleżeński
  - Oddziałowa Komisja Rewizyjna
- Funkcję Prezesa PTTK pełni:
  - Lech Drożdżyński
  - Jerzy Kapłon
  - Edward Kudelski
  - Andrzej Gordon
- Kadrę programową PTTK stanowią zrzeszeni w PTTK:
  - Znakarze Szlaków Nizinnych
  - Organizatorzy Turystyki
  - Instruktorzy Ochrony Przyrody
  - Przodownicy Turystyki Motorowej
- Prezesem Zarządu Oddziału Międzyuczelnianego PTTK w Warszawie jest:
  - Mieszko Janiszek
  - Ilona Maroszek
  - Paweł Dudzik
  - Marcin Grabowski
- Jakie warunki musi spełniać osoba na Walnym Zebraniu koła Oddziału Międzyuczelnianego PTTK w Warszawie, aby móc uczestniczyć w obradach Zebrania z głosem decydującym:
  - posiadać legitymację PTTK z opłaconą składką za dany rok kalendarzowy
  - posiadać uprawnienia Organizatora Turystyki PTTK
  - być członkiem zwyczajnym tego koła
  - posiadać mandat delegata na Zebranie oraz pisemne zaproszenie od władz koła

**Pytanie 17 [36 pkt.] (Zwolnienie dla osób posiadających odznaki TAK / NIE)**

Wyjaśnij następujące skróty:

GOT	
KOT	
NON	
OFK	
OTJ	
TOK	
TP	
WOK	
ŻOT	

**Pytanie 18 [24 pkt.]**

a) Podaj miejscowości stanowiące lokalizacje (siedziby) następujących jednostek i obiektów PTTK [15 pkt.]

Zarząd Główny PTTK	
Centrum Fotografii Krajoznawczej PTTK	
Centralna Biblioteka PTTK im. Kazimierza Kulwiecia	
Centralny Ośrodek Turystyki Górskiej PTTK	
Studencka Baza Namiotowa „Madejowe Łoże”	

b) Wymień 3 Władze Naczelne PTTK [9 pkt.]

--	--	--

**Historia turystyki****Pytanie 19 [36 pkt.] test jednokrotnego wyboru**

W którym roku miały miejsce poniższe wydarzenia:

1. Powstanie TOPR

a) 1873

b) 1909

c) 1952

2. Powstanie AKT Lwów

a) 1893

b) 1902

c) 1906

3. Powstanie Koła Uczelnianego nr 139 na PW (późniejszego Koła PTTK nr 1 przy PW)

a) 1906

b) 1923

c) 1954

4. Powstanie Oddziału Międzyuczelnianego PTTK w Warszawie

a) 1893

b) 1947

c) 1960

**Pytanie 20 [24 pkt.]**

W którym roku założono następujące organizacje:

PTTK		TT	
------	--	----	--

PTK	
-----	--

**Pytanie 21 [40 pkt.] test jednokrotnego wyboru**

Zaznacz prawidłową odpowiedź:

1. Mariusz Zaruski:

- a) zmarł zamęczony przez NKWD w 1941,
- b) był autorem piosenki „Bieszczadzkie Anioły”,
- c) był założycielem Oddziału Międzyuczelnianego,
- d) był członkiem Koła PTTK nr 1 przy PW.

2. Tytus Chałubiński był założycielem:
  - a) AKT Lwów,
  - b) PTTK,
  - c) Towarzystwa Ochrony Świstaka,
  - d) GTT.
3. Praca „Pamiętniki czasów moich”
  - a) powstała w 1950 roku,
  - b) jej autorem jest Julian Ursyn Niemcewicz,
  - c) jej autorem jest Stanisław Witkiewicz,
  - d) jej autorem jest Łukasz Aranowski.
4. Bezpośrednią przyczyną założenia Tatrzańskiego Ochotniczego Pogotowia Ratunkowego:
  - a) był wzrost ruchu turystycznego w Beskidach,
  - b) było zakończenie I Wojny Światowej,
  - c) była uchwała Zarządu Głównego PTTK powołująca TOPR,
  - d) była śmierć Mieczysława Karłowicza.
5. Ochrona kozicy i świstaka była celem statutowym:
  - a) TOPR,
  - b) SKPTG,
  - c) TT,
  - d) PTK.
6. Mieczysław Orłowicz:
  - a) założył TT,
  - b) był prezesem Towarzystwa Karpackiego,
  - c) był producentem oranżady,
  - d) jako pierwszy zajął się organizacją turystyki akademickiej.
7. W 1874 roku powstało schronisko :
  - a) w Krynicy Morskiej,
  - b) nad Morskim Okiem,
  - c) w Ustrzykach Dolnych,
  - d) w Zagórzcu.
8. PTTK powstało z połączenia:
  - a) AKT i TOPR,
  - b) PTK i PTT,
  - c) TW i TT,
  - d) SKPB i TT.
9. Aleksander Janowski:
  - a) założył PTK,
  - b) założył AKT Lwów,
  - c) uczestniczył w “wojnie na pędzle”,
  - d) założył GOPR.

10. W wyniku zmian granic po II Wojnie Światowej Polska utraciła następujące góry:

- a) Rudawy,
- b) Beskid Wyspowy,
- c) Czarnohorę,
- d) Góry Bystrzyckie.

## Pierwsza pomoc

### Pytanie 22 [30 pkt.]

Podaj numery następujących telefonów alarmowych

Straż Pożarna	
Policja	
Pogotowie Ratunkowe	

TOPR	
GOPR	
WOPR	

### Pytanie 23 [20 pkt.]

Poniższa lista przedstawia składniki znajdujące się w apteczce wyjazdowej. Opisz w jaki sposób i w jakich sytuacjach wykorzystałbyś **pięć wybranych przedmiotów**.

***altacet, agrafka, bandaż elastyczny, chusta trójkątna, codofix, kompres gazowy, opatrunek żelowy, woda utleniona***


### Pytanie 24 [32 pkt.] test wielokrotnego wyboru

- 1) Dziesięciu z dwunastu uczestników wyjazdu uskarża się na ból brzucha i lekką biegunkę
  - a) podajesz uczestnikom do picia mleko,
  - b) podajesz uczestnikom leki przeciwbólowe,
  - c) przez kilka dni przygotowujesz lekkostrawne i obfitujące w płyny posiłki,
  - d) skrucasz trasę podczas najbliższych dni.

- 2) Uczestnikowi wyjazdu zaczyna lecieć obficie krew z nosa:
- odchylasz głowę do tyłu,
  - pochylasz głowę do przodu,
  - robisz zimny okład na kark,
  - zaciskasz skrzydełka nosa chusteczką na 10 min.
- 3) Uczestnika wyjazdu ukąsiła pszczoła w rękę, miejsce ukąszenia bardzo spuchło i zaczerwieniło się:
- przykładasz cebulę,
  - wyjmujesz żądło,
  - podajesz wapno,
  - obserwujesz, czy nie zwiększa się opuchlizna i w razie potrzeby kontaktujesz się z lekarzem.
- 4) Uczestnik wyjazdu po studenckich bazach namiotowych uskarża się na otarcia stóp i bąble:
- przekłuwasz bąble,
  - zakładasz sączek, żeby odprowadzić gromadzący się płyn,
  - skracasz trasę następnego dnia,
  - dbasz, aby uczestnik dokładnie umył i wysuszył stopy.

### Pytanie 25 [18 pkt.]

Wybierz trzy z opisanych powyżej sytuacji i opisz w jaki sposób należy im zapobiegać.

Sytuacja	Przeciwdziałanie

## Geografia Turystyczna Polski

### Pytanie 26 [30 pkt.]

Podaj nazwy wszystkich miast wojewódzkich dla wymienionych poniżej województw zgodnie z aktualnym podziałem administracyjnym.

dolnośląskie		podkarpackie	
kujawsko-pomorskie		podlaskie	
lubuskie		pomorskie	
małopolskie		śląskie	
świętokrzyskie		zachodniopomorskie	

**Pytanie 27 [30 pkt.]**

a) Przyporządkuj danym pasmom górskim z tabeli ich najwyższe szczyty. [16 pkt.]

1	Beskid Mały	
2	Beskid Sądecki	
3	Bieszczady	
4	Góry Izerskie	
5	Góry Opawskie	
6	Góry Stołowe	
7	Góry Świętokrzyskie	
8	Tatry	

A	Biskupia Kopa 889 m n.p.m.
B	Czupel 933 m n.p.m.
C	Łysica 612 m n.p.m.
D	Radziejowa 1262 m n.p.m.
E	Rysy 2499 m n.p.m.
F	Szczeliniec Wielki 919 m n.p.m.
G	Tarnica 1346 m n.p.m.
H	Wysoka Kopa 1126 m n.p.m.

b) Przyporządkuj danym miejscowościom obiekty z listy UNESCO, które się w nich znajdują. [14 pkt.]

1	Auschwitz-Birkenau	
2	Kalwaria Zebrzydowska	
3	Malbork	
4	Sękowa	
5	Świdnica	
6	Toruń	
7	Zamość	

A	Drewniany kościół południowej Małopolski
B	Kościół pokoju
C	Manierystyczny zespół architektoniczny i krajobrazowy oraz park pielgrzymkowy z XVII w
D	Niemiecki nazistowski obóz koncentracyjny i zagłady (1940-1945)
E	Przykład renesansowej zabudowy miejskiej
F	Średniowieczny zespół miejski
G	Zamek Krzyżacki



## Pytanie 28 [40 pkt.]



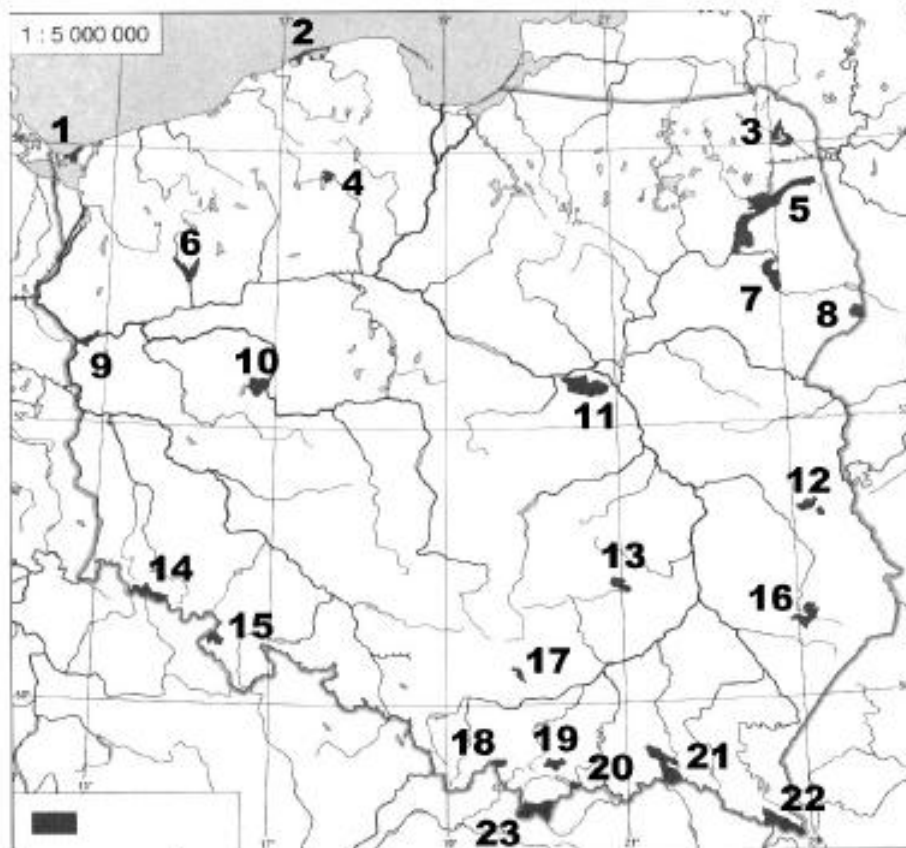
Zaznacz na podanej mapie Polski położenie **dwudziestu** wybranych z poniższej listy miejsc:

1	Białowieża	14	Opole
2	Chęciny	15	Płock
3	Giżycko	16	Poznań
4	Głucholazy	17	Przemyśl
5	Gniezno	18	Radom
6	Kartuzy	19	Sopot
7	Kazimierz Dolny	20	Stare Drawsko
8	Kłodzko	21	Sulejów
9	Kołobrzeg	22	Suwałki
10	Lublin	23	Warszawa
11	Łódź	24	Wisła
12	Nowy Sącz	25	Włocławek
13	Olsztyn	26	Zakopane

## Ochrona przyrody

### Pytanie 29 [46 pkt.]

Podaj nazwy zaznaczonych na mapie parków narodowych



1		13	
2		14	
3		15	
4		16	
5		17	
6		18	
7		19	
8		20	
9		21	
10		22	
11		23	
12			

**Pytanie 30 [12 pkt.]**

Scharakteryzuj krótko (w czterech zdaniach) wybrany polski park narodowy, uwzględniając ukształtowanie terenu, roślinność, faunę i atrakcje turystyczne

--

**Pytanie 31 [42 pkt.]**

1. Podaj 2 warunki pozwalające legalnie poruszać się w Polsce po parku narodowym poza wyznaczonymi szlakami turystycznymi. [10 pkt.]

--	--

2. Podaj 2 wybrane warunki pozwalające legalnie biwakować w Polsce w parku narodowym. [12 pkt.]

--	--

3. Podaj 2 przykładowe przyczyny zakazu wstępu do lasu (lub jego fragmentu) w Polsce. [6 pkt.]

--	--

4. Z podanych definicji (na podstawie obowiązującej Ustawy o ochronie przyrody) wybierz tę, która najpełniej opisuje park krajobrazowy [14 pkt]

- a. obszar umożliwiający migrację organizmów żywych
- b. obszar chroniony ze względu na walory przyrodnicze, historyczne, kulturowe i krajobrazowe w celu ich zachowania i popularyzacji w warunkach zrównoważonego rozwoju
- c. urządzone i zagospodarowany teren będący miejscem ochrony ex situ roślin różnych stref klimatycznych i siedlisk
- d. jest tworzony dla ochrony przyrody nieożywionej (formacji geologicznych, nagromadzeń skamieniałości)
- e. obszar wyróżniający się szczególnymi wartościami przyrodniczymi, naukowymi, społecznymi, kulturowymi i edukacyjnymi, o powierzchni nie mniejszej niż 1 000 ha, na którym ochronie podlega cała przyroda oraz walory krajobrazowe

**Zagadnienia prawne w turystyce****Pytanie 32 [55 pkt.]**

1. Jakie informacje powinno zawierać zgłoszenie imprezy w OM PTTK? Wymień 5. [25 pkt.]

--	--	--	--	--

2. Jakie informacje powinno zawierać rozliczenie imprezy w OM PTTK? Wymień 3. [15 pkt.]

--	--	--

3. Wymień 3 warunki jakie musi spełniać wolontariusz OM PTTK, aby mógł organizować imprezy? [15 pkt.]

--	--	--

### Pytanie 33 [20 pkt.] test wielokrotnego wyboru

1. Kto objęty jest ubezpieczeniem OC na wyjazdach organizowanych przez Oddział Międzyuczelniany PTTK w Warszawie?
  - a) Każdy uczestnik imprezy
  - b) Każdy uczestnik imprezy będący członkiem PTTK
  - c) Kadra i organizatorzy
  - d) Członkowie Zarządu Oddziału
  
2. Jakie prawa ma wolontariusz?
  - a) prawo do pisemnego zaświadczenia o wykonanej pracy
  - b) prawo do ubezpieczenia NNW z tytułu wypadków lub chorób zawodowych powstałych w szczególnych okolicznościach, do takich samych świadczeń jak pracownik etatowy, łącznie z rentą wypadkową
  - c) prawo do zawarcia porozumienia z podmiotem, na rzecz którego wykonuje świadczenia
  - d) prawo do zwrotu kosztów podróży i delegacji służbowych
  
3. Jaki dokument uprawnia obywateli polskich do przekraczania granicy z Litwą?
  - a) Dowód osobisty
  - b) Legitymacja studencka
  - c) Legitymacja PTTK
  - d) Paszport
  
4. Zaznacz państwo (państwa) znajdujące się w strefie Schengen.
  - a) Słowacja
  - b) Rumunia
  - c) Szwajcaria
  - d) Ukraina
  
5. W którym z poniższych punktów można legalnie przekroczyć granicę RP?
  - a) Na zielonej granicy ze Słowacją poza wyznaczonymi turystycznymi przejściami granicznymi, w miejscu gdzie po słowackiej stronie znajduje się *Tatranský národný park (TANAP)*, a po polskiej Tatrzański PN
  - b) Na zielonej granicy z Czechami w PK Sudetów Wałbrzyskich poza wyznaczonymi turystycznymi przejściami granicznymi
  - c) Na zielonej granicy z Ukrainą w Bieszczadach
  - d) Na zielonej granicy z Litwą

### Pytanie 34 [25 pkt.]

Czy następujące sytuacje są zgodne z prawem? Zaznacz właściwą odpowiedź.

- |  |         |
|--|---------|
| 1. Biwakowanie w lesie poza miejscem wyznaczonym przez właściciela/nadleśniczego                             | TAK/NIE |
| 2. Zatrzymanie legitymacji studenckiej przez kierownika pociągu z powodu podejrzenia o fałszerstwo           | TAK/NIE |
| 3. Żądanie przez nieumundurowanego funkcjonariusza SG okazania dowodu osobistego w celu ustalenia tożsamości | TAK/NIE |
| 4. Spożywanie piwa w pociągu międzynarodowym, w przedziale z miejscami siedzącymi                            | TAK/NIE |
| 5. Organizacja imprezy turystycznej w lesie na 150 osób bez zgody właściciela/nadleśniczego                  | TAK/NIE |

**Terenoznawstwo****Pytanie 35 [42 pkt.]**

a) Korzystając z załączonej mapy odpowiedz na poniższe pytania: [24 pkt.]

Podaj wysokość n.p.m. (z dokładnością do 10 m) punktu, w którym linia kolejowa widoczna na mapie osiąga największą wysokość, oraz podaj nazwę najbliższego do tego punktu przystanku kolejowego.	
Podaj dwie możliwości przenocowania (rodzaj obiektu, lokalizacja) na obszarze mapy.	
Podaj nazwę dwóch miejscowości, w których istnieje ośrodek narciarstwa zjazdowego z wyciągiem narciarskim.	
Zaznacz długopisem na mapie 4 (cztery) przełęcze.	

b) Podaj odległość (w km) oraz sumę podejść (w m), które pokonamy idąc szlakiem niebieskim z Jurkowa (przystanek PKS) do Kasiny Wielkiej (stacja kolejowa). [18 pkt.]

--	--

**Pytanie 36 [22 pkt.]**

a) Ilu centymetrom na mapie o zadanej skali odpowiada 12 km w terenie? [6 pkt.]

1:100 000		1:20 000	
-----------	--	----------	--

b) Ilu kilometrom w terenie odpowiada 8 cm na mapie o podanej skali? [4 pkt.]

1:65 000		1:125 000	
----------	--	-----------	--

c) Narysuj strzałkę w odpowiednim kierunku, przyjmując, że 0 (zero) stopni jest w kierunku góry kartki. [12 pkt.]

270°		315°	
135°		180°	

**Pytanie 37 [36 pkt.]**

a) Podaj 3 sposoby odnalezienia północy w terenie bez użycia kompasu ani innych urządzeń służących do nawigacji. [18 pkt.]

--	--	--

b) Ułóż we właściwej kolejności czynności dokonywane przy rozpoczęciu marszu na azymut [18 pkt.]

	Rozpocząć marsz w kierunku wyznaczonym przez strzałkę kierunku marszu na kompasie
	Przyłożyć kompas do mapy, żeby strzałka kierunku marszu na kompasie była zgodna z planowanym kierunkiem marszu na mapie
	Kompas ustawić tak, żeby 0 (zero) stopni na skali pierścieni pokrywało się z północą w rzeczywistości, wyznaczoną przez czerwony koniec igły
	Przekręcić pierścień kompasu tak, żeby 0 (zero) stopni na skali pierścieni pokrywało się z północą na mapie